

Übungsfragen RDP für Open Water Diver und die die es werden wollen.

Zur Erinnerung:

Diese Aufgaben sind zum üben gedacht. Auch wenn die Taucher in diesen Aufgaben tiefer tauchen, gilt für dich als Open Water Diver die 18 Meter Grenze.

TG	Tauchgang	GZ	Grundzeit	OFP	Oberflächenpause
WG	Wiederholungsgruppe	NZG	Nullzeitgrenze	ZZ	Zeitzuschlag

Verbindliche Sicherheitstopps sind einzutragen, freiwillige nicht.

Finden deiner Nullzeitgrenze.

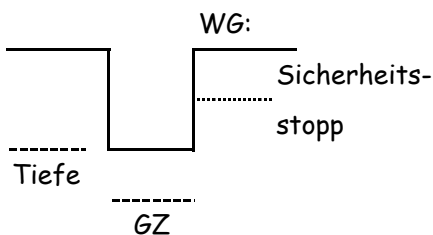
- 1.) Wie ist deine NZG für einen Tauchgang auf 14 Meter?

- 2.) Wie ist deine NZG für einen Tauchgang auf 28 Meter?

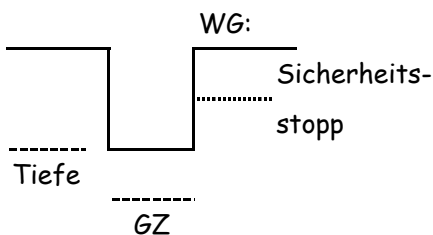
- 3.) Wie ist deine NZG für einen Tauchgang auf 8 Meter?

Finden deiner Wiederholungsgruppe nach einem Tauchgang.

- 4.) Wie ist deine WG nach einem TG auf 22 Meter für 26 Minuten?

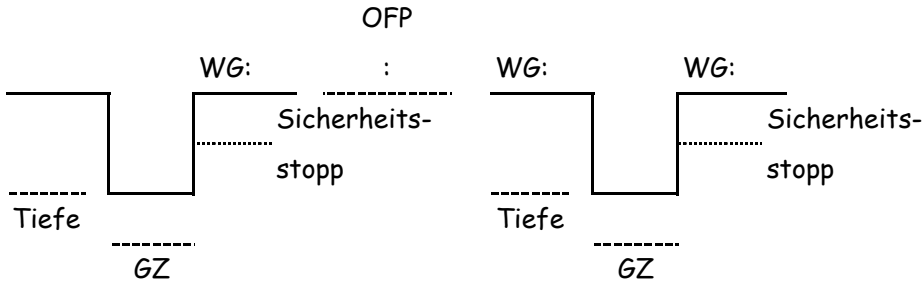


- 5.) Wie ist deine WG nach einem TG auf 18 Meter für 40 Minuten?

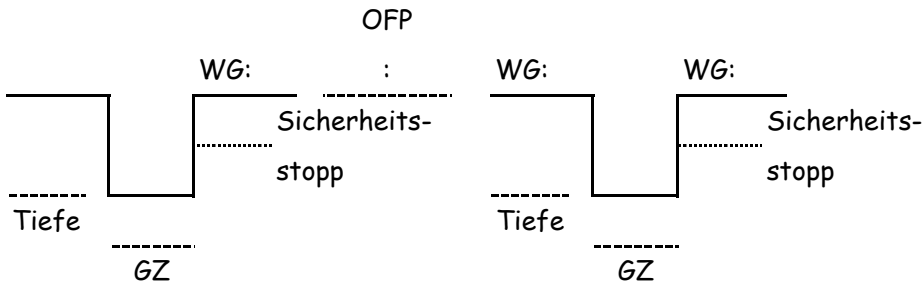


Finden deiner Wiederholungsgruppe nach der Oberflächenpause.

- 6.) Du tauchst nach einem TG als G-Taucher/in auf. Wie ist deine neue WG nach einer OFP von 1:30?



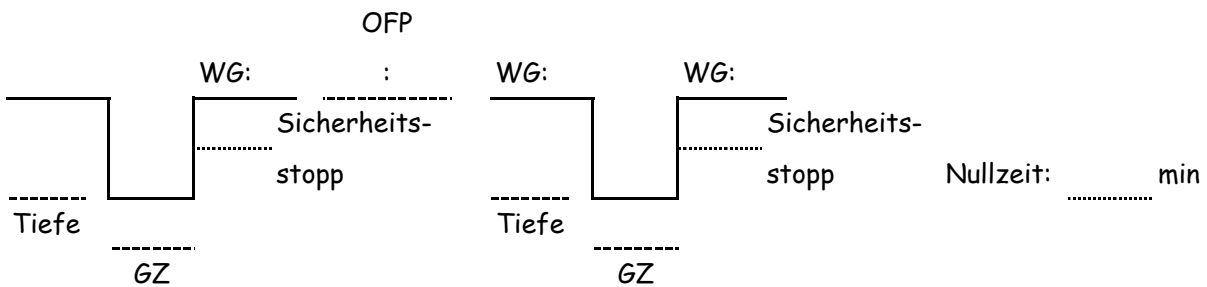
- 7.) Du tauchst nach einem TG als S-Taucher/in auf. Wie ist deine neue WG nach einer OFP von 5 Minuten?



Finden deiner Nullzeitgrenze / deines Zeitzuschlages für Wiederholungstauchgänge.

- 8.) Nach einer OFP bist du in Wiederholungsgruppe D. Du möchtest einen weiteren TG auf 20 Meter planen. Wie ist deine NZG für diesen TG?

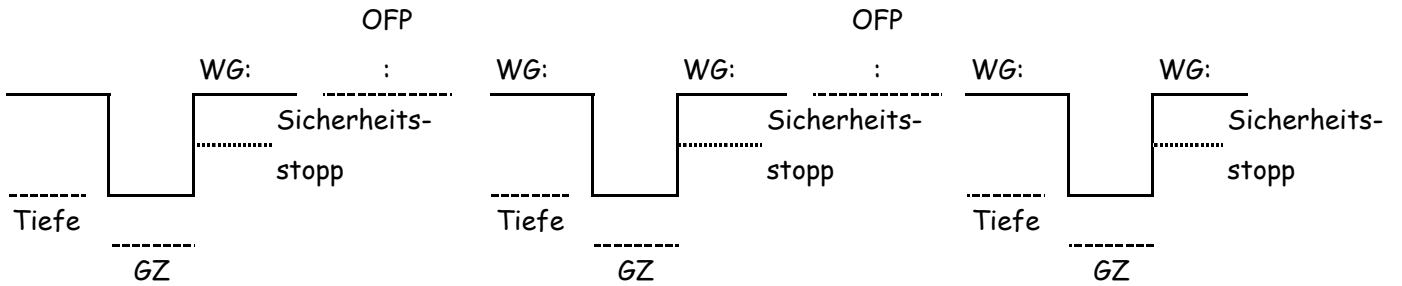
- 9.) Du planst deinen ersten TG des Tages auf 18 Meter für 40 Minuten. Danach planst du eine OFP von 1 Stunde gefolgt von einem weiteren TG auf 18 Meter. Wie ist deine NZG für den zweiten TG?



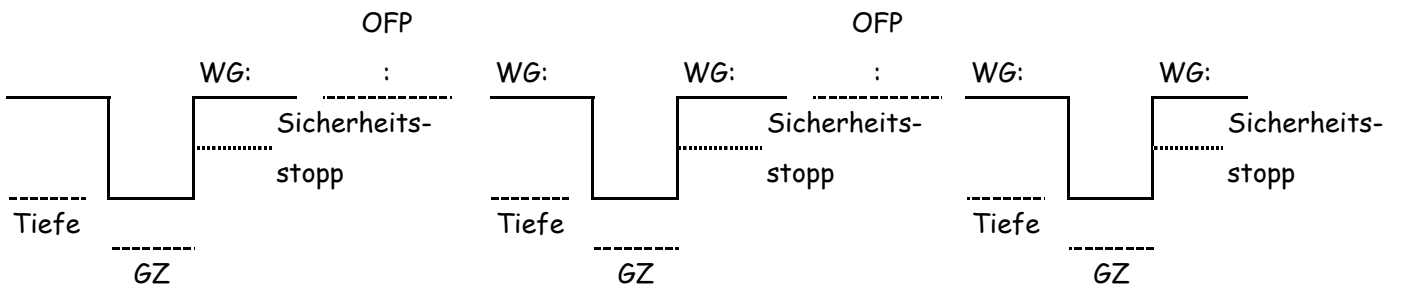
- 10.) Wenn du nach einer OFP in Wiederholungsgruppe M bist, wie ist dann dein ZZ wenn du einen weiteren Tauchgang auf 18 Meter planst?

Planen mehrerer Tauchgänge.

- 11.) Du planst eine Serie von 3 Tauchgängen. Der erste geht auf 18 Meter für 44 Minuten. Nach 30 Minuten OFP planst du einen zweiten TG auf 14 Meter für 25 Minuten und nach einer OFP von 48 Minuten soll dein dritter TG auf 12 Meter für 25 Minuten die Serie abschließen. In welcher WG wirst du am Ende deines dritten TG sein?



- 12.) Du planst eine Serie von 3 Tauchgängen. Der erste geht auf 25 Meter für 23 Minuten. Nach 01:45 OFP planst du einen zweiten TG auf 18 Meter für 25 Minuten und nach einer OFP von 48 Minuten soll dein dritter TG auf 12 Meter für 30 Minuten die Serie abschließen. In welcher WG wirst du am Ende deines dritten TG sein?



Finden deiner Mindestoberflächenpause.

- 13.) Was ist die Dauer deiner Mindestoberflächenpause nach einem Tauchgang auf 22 Meter für 34 Minuten und einem darauffolgenden geplanten Tauchgang auf 14 Meter für 42 Minuten.

